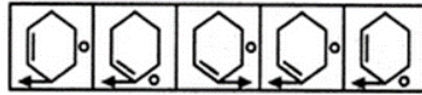
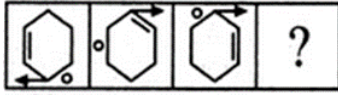


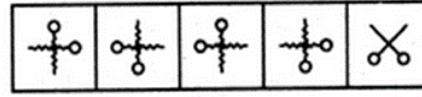
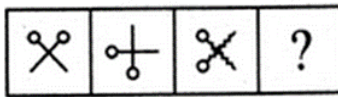
دانش آموزان عزیز ششمی، با توجه به روابط بین شکل های زیر، کدام مورد می تواند در جای ؟ قرار بگیرد؟

-۱




۱ ۲ ۳ ۴ ۵

-۲



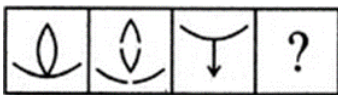
۱ ۲ ۳ ۴ ۵

-۳



۱ ۲ ۳ ۴

-۴

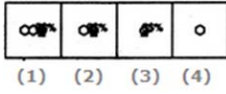



۱ ۲ ۳ ۴ ۵

-۵



۱ ۲ ۳ ۴

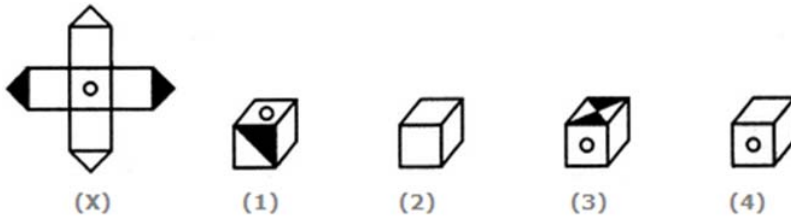


۷- شکل * در کدام مورد دیده می شود؟



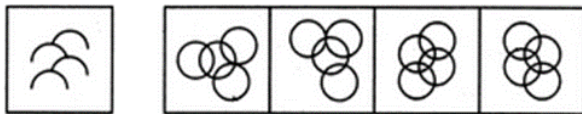
* ۱ ۲ ۳ ۴

۸- با بستن باز شده ی مکعب X کدام مکعب حاصل می شود؟



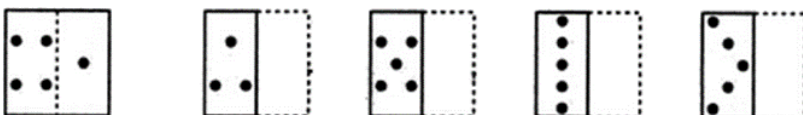
(X) (1) (2) (3) (4)

۹- شکل * در کدام مورد دیده می شود؟



* ۱ ۲ ۳ ۴

۱۰- با تا شدن نیمه ی سمت چپ شکل * روی نیمه راست آن کدام شکل حاصل می شود؟



* ۱ ۲ ۳ ۴