

علوم دوم (فصل ۱ تا)
هیوا تخصصی ترین سایت مشاوره کشور
آذرماه ۹۴

اسم من :

دبستان :

۱ هر عضورا به حس مناسب وصل کن.



حس لامسه



حس بینایی



حس چشایی



حس شنوایی



حس بویایی

۲ فصل ها را نام ببر؟



۳ چه چیزهایی هوا را آلوده می کند؟

.....-۳

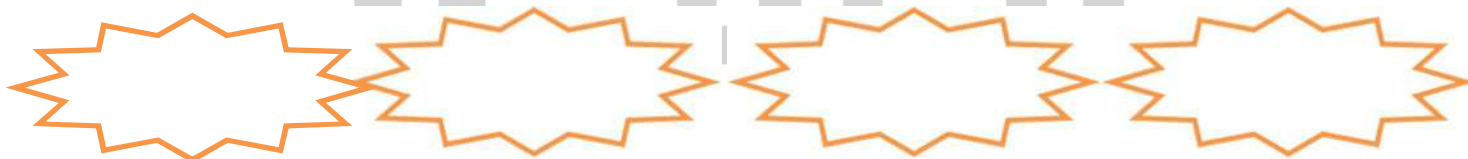
.....-۲

.....-۱

۴

.....
آب از کجا هایی به دست می آید ؟
.....

۵-چه جانورانی شب ها فعالیت می کنند یا شب ها شکار می کنند؟



۶ انسان از باد چه استفاده هایی می کند؟

.....-۱

.....-۲

۷-باد دارایو.....است .

خانه ی ما کجاست ؟

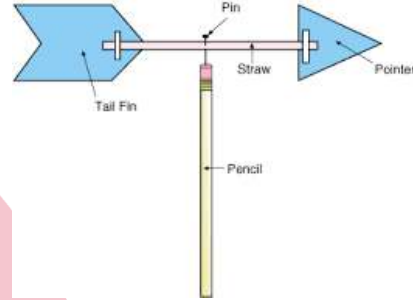
۸- هوای آلوده چه اثری بر زندگی جانوران و گیاهان دارد؟

هیوا تخصصی ترین سایت مشاوره کشور

۹- انسان از آب چه استفاده های می کند؟

۱-
۲-
۳-

۱۰- نام هر تصویر را بنویس.



.....

۱۱- چه طور می شود جهت باد را فهمید؟



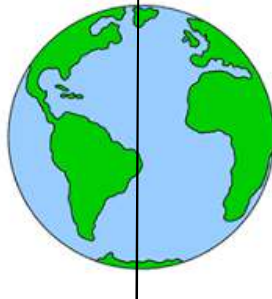
۱۲- وقتی نور خورشید به طور کج بتاید آن محل است.

وقتی نور خورشید به طور راست بتاید آن محل است.

نور خورشید در ظهر از نور خورشید در عصر است.

وقتی زمین رو به خورشید است است.

وقتی زمین رو به خورشید است است.



۱۳- زمین در هر ساعت یک بار به دور خود می چرخد.

روز و شب چگونه بوجود می آید؟

باز خورد معلم

