

# مجموعه تست هوش و استعداد تحلیلی

ششم دبستان

# سوال ۱

۶ , ? , ۷ , ۱۰ , ۸ , ۱۱ , ۹



۹ (۱)

۴ (۲)

۸ (۳)

۳ (۴)

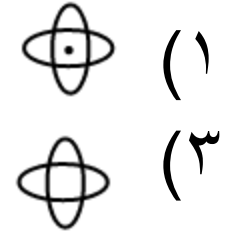
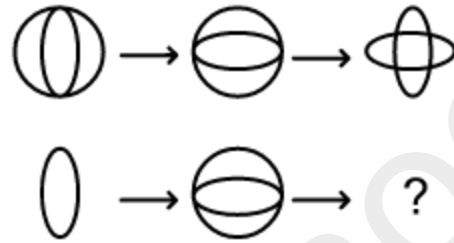
www.kanoon.ir

# پاسخ

▶ گزینه ۲

▶ یکی در میان با ۳ جمع و ۲ از آن کم می شود در این مرحله باید ۲ از آن کم شود .

## سوال ۲

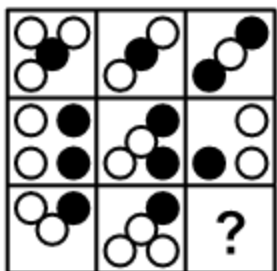






گزینه ۴ ▶

▶ در هر مرحله اخلاف های دو شکل در شکل سوم جا می گیرد.

www.kanoon.ir

# سوال ۳



-  (۱) ▶
-  (۲) ▶
-  (۳) ▶
-  (۴) ▶

www.kanoon.ir

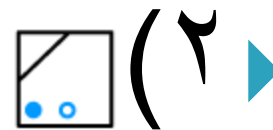
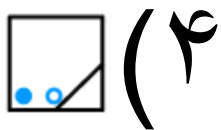
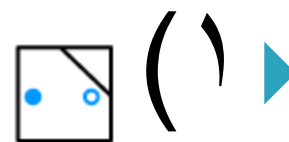
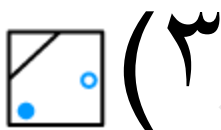
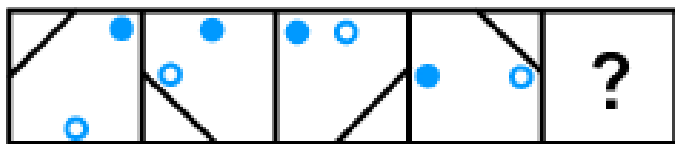
# پاسخ

▶ گزینه ۳

▶ ردیف سوم در واقع متمم اشتراک ردیف اول و دوم است.

www.kanoon.ir

# سوال ۴



www.kanoon.ir



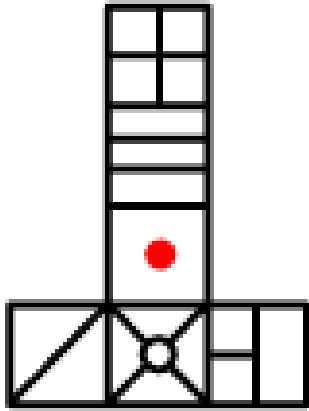
## پاسخ ۴





گزینه ۴ ▶

▶ حرکت اجزای داخل هر شکل را به صورت تک تک بررسی می کنیم سپس شکل نهایی را با کنار هم گذاشتن اجزای آن به دست می آوریم.

# سوال ۵

شکل روبرو گسترده کدام گزینه است؟



- (۱) 
- (۲) 
- (۳) 
- (۴) 

پاسخ ۵

گزینه ۲ ▶