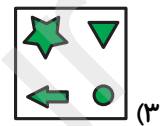
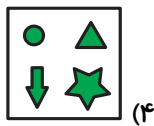
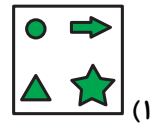
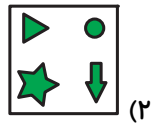


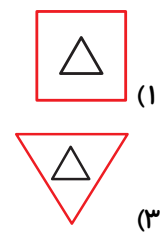
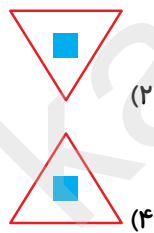
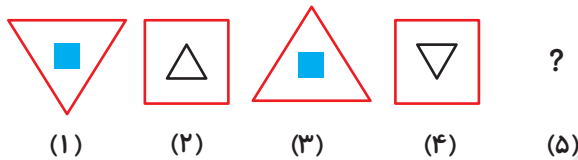
# آمادگی برای آزمون ۳ آبان

## هوش و استعداد

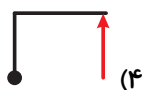
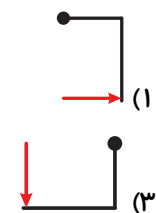
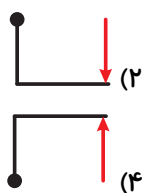
۱- گزینه‌ی ناهماهنگ را انتخاب کنید.



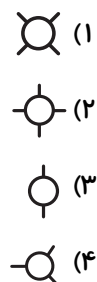
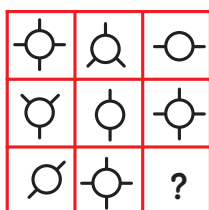
۲- کدام یک از تصویرهای زیر برای شکل (۵) مناسب است؟



۳- کدام تصویر با بقیه متفاوت است؟

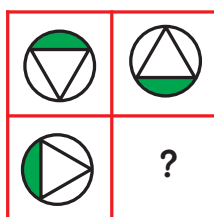


۴- با توجه به الگوی موجود در تصویرهای جدول، کدام یک از گزینه‌ها، آن را کامل می‌کند؟

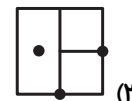
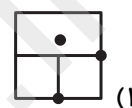
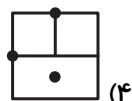
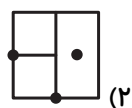


## آمادگی برای آزمون ۳ آبان


۵- کدام شکل، تصویر را کامل می‌کند؟



۶- کدام یک از شکل‌های زیر با بقیه متفاوت است؟



۷- کدام یک از مکعب‌های زیر نمی‌تواند از تا کردن شکل زیر حاصل شود؟



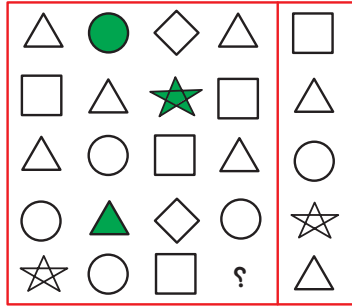
۸- در شکل زیر با توجه به الگوی داده شده در ردیف اول، به جای علامت سؤال در ردیف دوم، چه شکلی قرار

می‌گیرد؟



## آمادگی برای آزمون ۳ آبان

۹- در شکل زیر، بین اشکال رابطه خاصی وجود دارد. به جای علامت سؤال چه شکلی قرار می‌گیرد؟



۱۰- با توجه به تصاویر داده شده، گزینه‌ی مناسب‌تر را به جای علامت سؤال انتخاب کنید.

